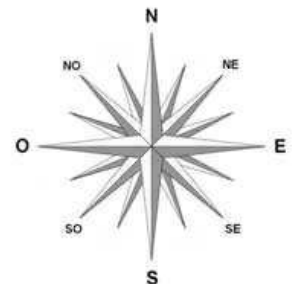
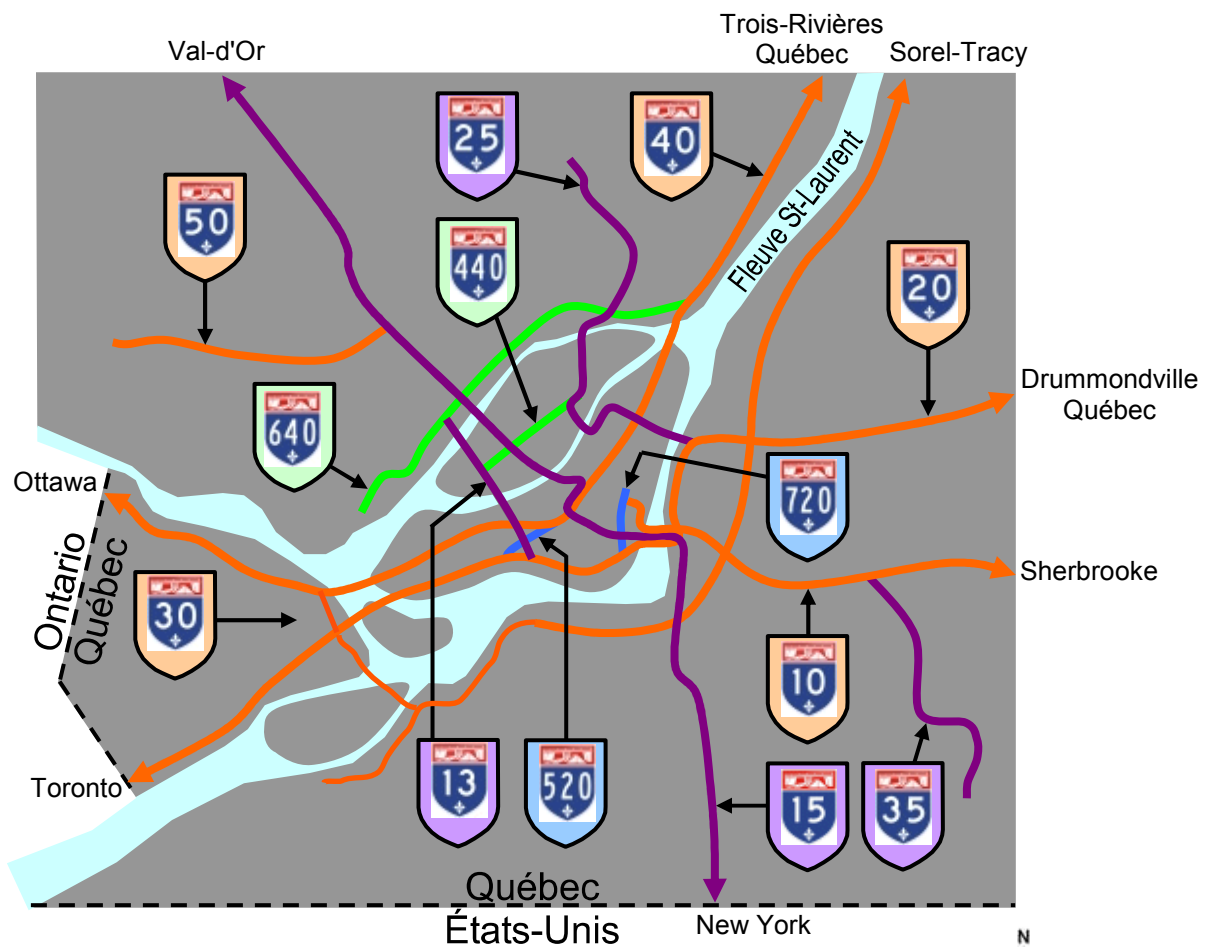


# ASSOCIATION «NUMÉRO – ROUTE» (CORRECTEUR)

## Réseau autoroutier de la grande région de Montréal

### Exercice 1

Localiser les autoroutes suivantes sur la carte :



# ASSOCIATION «NUMÉRO – ROUTE» (CORRECTEUR)

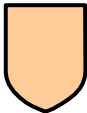

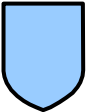
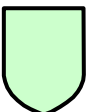
## Interprétation des numéros

### Exercice 2

Transcrire les numéros d'autoroute de l'exercice précédent selon le code des couleurs :



Pour chacun des groupes de couleurs, quelles sont vos constatations ?

	<ul style="list-style-type: none"> <li>- Chiffres pairs;</li> <li>- Direction ouest – est (par rapport au fleuve Saint-Laurent);</li> <li>- Chiffres inférieurs à 100 : Autoroutes;</li> <li>- Numéro d'autoroute débutant au sud en augmentant vers le nord;</li> </ul>
	<ul style="list-style-type: none"> <li>- Chiffres impairs;</li> <li>- Direction sud – nord (par rapport au fleuve Saint-Laurent);</li> <li>- Chiffres inférieurs à 100 : Autoroutes;</li> <li>- Numéro d'autoroute débutant à l'ouest en augmentant vers l'est;</li> </ul>
	<ul style="list-style-type: none"> <li>- Numéros d'autoroutes munis de préfixes impairs;</li> <li>- Préfixes établis en fonction des axes routiers menant à une autoroute;</li> <li>- Autoroutes collectrices.</li> </ul>
	<ul style="list-style-type: none"> <li>- Numéros d'autoroutes munis de préfixes pairs;</li> <li>- Préfixes établis en fonction des axes routiers alternatifs prévus pour contourner des sections d'autoroutes;</li> <li>- Autoroutes de déviation (autoroutes de contournement);</li> </ul>

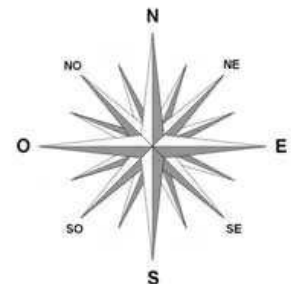
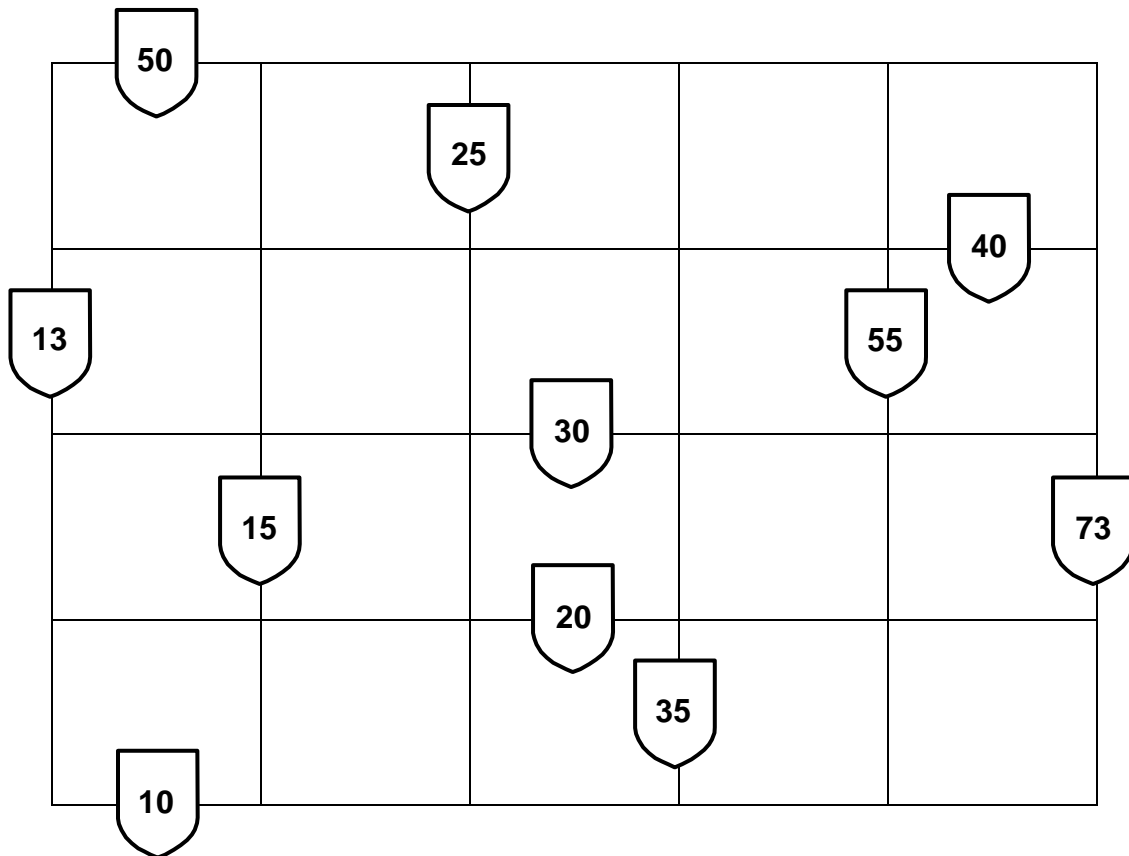
# ASSOCIATION «NUMÉRO – ROUTE» (CORRECTEUR)

## Réseau autoroutier du Québec

### Exercice 3

Chacune des lignes du quadrillage correspond à une autoroute.  
Transcrire les numéros d'autoroute suivants selon leur position et leur orientation :

30    25    55    50    15    35    20    40    73    10    13



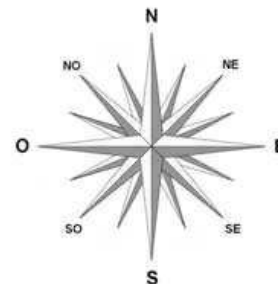
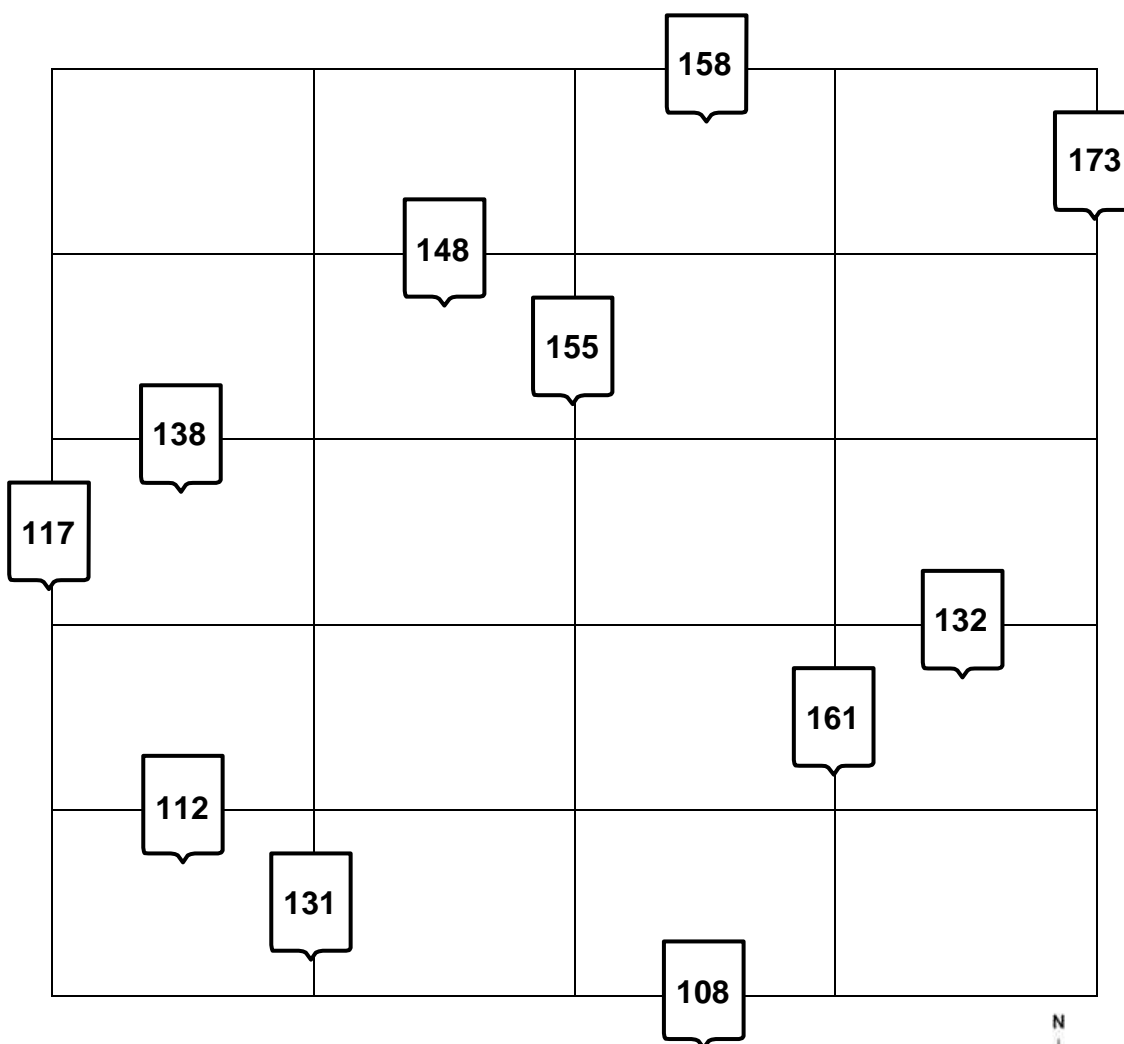
# ASSOCIATION «NUMÉRO – ROUTE» (CORRECTEUR)

## Réseau routier du Québec

### Exercice 4

Chacune des lignes du quadrillage correspond à une route principale.  
Transcrire les numéros de route suivants selon leur position et leur orientation :

158    161    138    108    155    117    173    112    131    132    148



# ASSOCIATION «NUMÉRO – ROUTE» (CORRECTEUR)

## Réseau routier du Québec

### Exercice 5

Chacune des lignes du quadrillage correspond à une route secondaire.  
Transcrire les numéros de route suivants selon leur position et leur orientation :

201    366    322    202    275    341    235    348    354    216    301

