

Questions en aide à l'apprentissage

Question à choix multiples

Fiche à compléter - 1

Leçon: 6.14

QUESTION:

À l'aide du connaissance, répondez aux questions suivantes:

Quel est le numéro de référence de l'expéditeur:

CONNAISSANCE NON NÉGOCIABLE NO DE CONN. : BILL OF LADING NOT NEGOCIABLE B/L No.		cptr CENTRE DE FORMATION DU TRANSPORT ROUTIER DE SAINT-JÉRÔME		17 000, rue Aubin Mirabel (Québec) J7J 1B1 Téléphone : (450) 435-0167 Télécopieur : (450) 435-0933	
3. Expéditeur/Shipper's name & address/Consignor's name & address QIT-Fer & Titane Inc., 1625 Marie-Victorin Rte, Tracy, QC J3R 1M6		2. No. de l'expéditeur/Consignor's no. 2021-05-26		5. No. ref. expéditeur/Consignor's ref. no. 978685	
7. Consignataire (nom et adresse)/Consignee (name & address) London International Airport 1750 Crumlin Rd, London, ON N5V 3B6		5. Nom du transporteur/Name of carrier Nir : R-543051-8		6. No. ref. transporteur/Carrier's ref. no.	
8. Reçu ou point d'origine, à la date et de l'expéditeur mentionné aux présentes les marchandises ou objets décrits en bon état apparemment se conformer aux conditions énoncées marquées, contreignées et destinées à qu'il est chargé mentionné, aux fins de transporter ou de livrer au destinataire au point de destination et de point de départ ou à toute autre fin autorisée à destination, selon le transporteur ou livreur par un autre transporteur autorisé à se faire et en cas de non-acceptation de la destination ou de la date de l'expéditeur. It is mutually agreed between the consignor and the carrier that the goods described hereunder are to be transported or delivered to the consignee at the place and date specified, or to any other place or date authorized by the carrier or by another carrier authorized to do so, subject to the conditions contained herein which are accepted by the consignor for himself and his assigns. Received at the point of origin on the date specified, from the consignor mentioned herein, the property herein described, or apparent good order, except as noted hereon and conditions of receipt of package (wherever marked, stamped and indented) as indicated herein, which the carrier agrees to carry and to deliver to the consignee at the place and date specified, it is mutually agreed between the consignor and the carrier or by another carrier or by another carrier authorized to do so, subject to the conditions contained herein which are accepted by the consignor for himself and his assigns.		9. Point de sortie / Counter or office/Ready party / Customs broker		10. Point d'origine/Point of origin	
11. Et destination/Point of destination and		12. Valeur déclarée / DECLARED VALUATION Déclaration maximum de 4 415 par kilogramme selon le poids total de l'expédition à moins qu'une valeur supérieure n'ait été déclarée au verso par l'expéditeur (Conditions 5 et 10 au verso). Maximum liability of 4,415 per kilogram, depending on the total weight of the shipment, unless the shipper has declared a higher value on the back of the bill of lading (Conditions 5 and 10 back).		13. Marque et numéro/Mark & number	
14. Nombre total de colis/Total no. of packages		15. Description des marchandises et particularités/General description of merchandise		16. No. de véhicule/Vehicle no.	
18. Nombre et type de paquets/Number and type of packages		19. Description des marchandises et particularités/Particulars of goods, marks and exceptions		20. Poids/Weight	
21. Type/Type		22. Montant/Amount		23. Frais de transport/FRIGHT CHARGES	
24. Si au risque de l'expéditeur, indiquer au verso/If at consignor's risk, write or stamp here		25. Frais de recouvrement/Collection charges		26. Entente spéciale entre l'expéditeur et le transporteur, y faire référence/ Special agreement between consignor & carrier, advise here	
27. Avis de réclamation/NOTICE OF CLAIM		28. Total		29. A l'arrivée/At arrival	
28. Total		29. A l'arrivée/At arrival		30. A l'arrivée/At arrival	
31. A l'arrivée/At arrival		32. Expéditeur/Consignor		33. Transporteur/Carrier	
33. Transporteur/Carrier		34. Consignataire/Consignee		35. Total des frais/Total charges	
34. Consignataire/Consignee		35. Total des frais/Total charges		36. Informations facultatives / Optional information	

CHOIX DE RÉPONSE: Une seule réponse possible X
Plusieurs réponses possibles

A) R-543051-8

Bonne réponse
() cocher

B) 3118

Bonne réponse
() cocher

C) 978685

Bonne réponse
() cocher

D) 4826

Bonne réponse
() cocher

Rétroaction si mauvaise réponse:
le numéro de référence de l'expéditeur est 978685

3. No ref. expéditeur/Consignor's ref. no.

978685

Fiche à compléter - 2

<p>QUESTION:</p> <p>À l'aide du connaissance de la question précédentes:</p> <p>Quel est le nom du consignataire:</p>	
<p>CHOIX DE RÉPONSE: Une seule réponse possible X Plusieurs réponses possibles</p>	
A) QIT-Fer & Titane Inc	Bonne réponse () cocher
B) London International Airport	Bonne réponse (x) cocher
<p>Rétroaction si mauvaise réponse: Il s'agit de l'expéditeur!</p>	

Fiche à compléter - 3

<p>QUESTION:</p> <p>À l'aide du connaissance de la question 1:</p> <p>Quel est le poids du chargement:</p>	
<p>CHOIX DE RÉPONSE: Une seule réponse possible X Plusieurs réponses possibles</p>	
A) 12 paquets	Bonne réponse () cocher
B) 3118	Bonne réponse () cocher
C) 4826	Bonne réponse () cocher
D) 14 590 kg	Bonne réponse (x) cocher
<p>Rétroaction si mauvaise réponse:</p>	

Fiche à compléter - 4

QUESTION:

À l'aide du connaissance de la question 1:

Quelles sont les information importantes pour le rendez-vous:

CHOIX DE RÉPONSE: Une seule réponse possible **X**
Plusieurs réponses possibles

A) Livraison Vendredi

Bonne réponse
() cocher

B) Livraison Vendredi 4 juin

Bonne réponse
() cocher

C) Livraison Vendredi 4 juin à 16h00

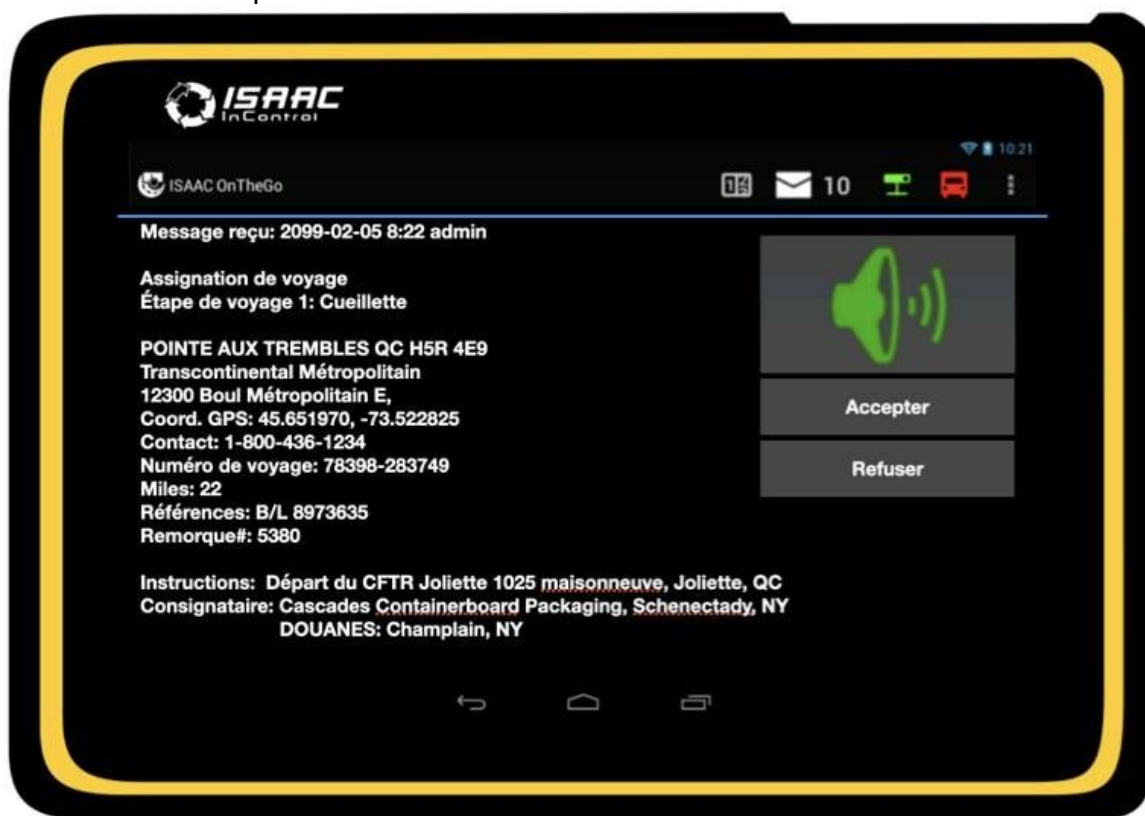
Bonne réponse
(**x**) cocher

Rétroaction si mauvaise réponse:

QUESTION:

À l'aide de votre assignation de voyage sur Isaac, répondez aux questions suivantes:

Quelle est la tâche que vous devez faire:



CHOIX DE RÉPONSE: Une seule réponse possible
Plusieurs réponses possibles

A) Cueillette (pick-up)	Bonne réponse (<input checked="" type="checkbox"/>) cocher
B) Livraison	Bonne réponse (<input type="checkbox"/>) cocher
C) Départ CFTR Joliette	Bonne réponse (<input type="checkbox"/>) cocher

Rétroaction si mauvaise réponse:

Fiche à compléter - 6

<p>QUESTION:</p> <p>À l'aide de votre assignation de voyage sur Isaac de la question 5: Quel est votre point de départ:</p>	
<p>CHOIX DE RÉPONSE: Une seule réponse possible X Plusieurs réponses possibles</p>	
A) Pointe aux Trembles, QC	Bonne réponse () cocher
B) CFTR Joliette	Bonne réponse (x) cocher
C) Champlain, NY	Bonne réponse () cocher
D) Schenectady, NY	Bonne réponse () cocher
<p>Rétroaction si mauvaise réponse:</p>	

Fiche à compléter - 7

<p>QUESTION:</p> <p>À l'aide de votre assignation de voyage sur Isaac de la question 5: Quel est le nom de l'expéditeur:</p>	
<p>CHOIX DE RÉPONSE: Une seule réponse possible X Plusieurs réponses possibles</p>	
A) CFTR Joliette	Bonne réponse () cocher
B) Cascades Containerboard Packaging	Bonne réponse () cocher
C) Douanes Champlain, NY	Bonne réponse () cocher
D) Transcontinental Métropolitain	Bonne réponse (x) cocher
<p>Rétroaction si mauvaise réponse:</p>	

Fiche à compléter - 8

<p>QUESTION:</p> <p>À l'aide de la carte du réseau de camionnage, déterminez de quel type est la douane à Champlain, NY (près de la sortie 1 de la 15 Sud):</p>	
<p>CHOIX DE RÉPONSE: Une seule réponse possible X Plusieurs réponses possibles</p>	
A) Services commerciaux désignés (7 jours sur 7, 24 heures sur 24)	Bonne réponse (x) cocher
B) Services commerciaux limités	Bonne réponse () cocher
<p>Rétroaction si mauvaise réponse:</p>	

Fiche à compléter - 9

<p>QUESTION:</p> <p>Dans quelle carte traditionnelle (papier) pouvez-vous retrouver la rue de votre expéditeur:</p>	
<p>CHOIX DE RÉPONSE: Une seule réponse possible X Plusieurs réponses possibles</p>	
A) La carte du réseau de camionnage	Bonne réponse () cocher
B) Le Rand McNally	Bonne réponse () cocher
C) Montréal & Environs	Bonne réponse (x) cocher
<p>Rétroaction si mauvaise réponse:</p>	

Fiche à compléter - 10

<p>QUESTION:</p> <p>En tenant compte de L' AGRANDISSEMENT de la localité (ville), Déterminez le carrelage ainsi que la page de la ville de Syracuse, NY</p>	
<p>CHOIX DE RÉPONSE: Une seule réponse possible Plusieurs réponses possibles X</p>	
A) P.69, carrelage SH à SJ de 1à 4	Bonne réponse (x) cocher
B) P.71, carrelage NI-12	Bonne réponse () cocher
C) P.69, carrelage SJ-2	Bonne réponse (x) cocher
D)	Bonne réponse () cocher
<p>Rétroaction si mauvaise réponse: Les deux bonnes réponses seraient P.69, carrelage SH à SJ de 1à 4 et P.69, carrelage SJ-2, puisque nous demandions l'agrandissement de la localité.</p>	


Fiche à compléter - 11

<p>QUESTION:</p> <p>Départ de Dadeville, AL Destination: LaFayette, AL Utiliser le Rand McNally p.4</p> <p>Mise en situation: Vous avez un camion semi-remorque chargé et vous devez vous rendre à LaFayette, AL.</p> <p>Déterminez les routes à utiliser avec votre véhicule lourd pour vous rendre à destination?</p>	
<p>CHOIX DE RÉPONSE: Une seule réponse possible X Plusieurs réponses possibles</p>	
A) 49 NORD, 44 EST , 48 EST	Bonne réponse () cocher
B) 49 NORD, 22 EST, 77 SUD	Bonne réponse () cocher
C) 38 EST, 50 EST, 431 NORD	Bonne réponse (x) cocher
<p>Rétroaction si mauvaise réponse: 38 EST, 50 EST, 431 NORD (Route pour camion)</p>	

Fiche à compléter - 12

<p>QUESTION:</p> <p>Votre camion consomme 50 litres/100 km. Combien de litres de carburant seront nécessaires pour effectuer un trajet de 572 km?</p>	
<p>CHOIX DE RÉPONSE: Une seule réponse possible X Plusieurs réponses possibles</p>	
A) 682 litres	Bonne réponse () cocher
B) 286 litres	Bonne réponse (x) cocher
C) 1144 litres	Bonne réponse () cocher
D)	Bonne réponse () cocher
<p>Rétroaction si mauvaise réponse:</p> <p>50 litres -> 100 km</p> <p>? litres -> 572 km 572×50 divisé par 100 = 286 litres</p>	

Fiche à compléter - 13

<p>QUESTION:</p> <p>D'après son symbole, déterminez de quel type est la route 1 entre Régina, SK et Swift Current, SK?</p>	
<p>CHOIX DE RÉPONSE: Une seule réponse possible X Plusieurs réponses possibles</p>	
A) Interstate	Bonne réponse () cocher
B) Autoroute	Bonne réponse () cocher
C) Autoroute Transcanadienne	Bonne réponse (x) cocher
D) Route Fédérale	Bonne réponse () cocher
<p>Rétroaction si mauvaise réponse:</p>	

Fiche à compléter - 14

<p>QUESTION:</p> <p>Le Road Atlas comprend une section indiquant les routes restreintes ainsi que les hauteurs libres pour chacune des provinces et des états.</p>	
<p>QUESTION VRAI OU FAUX</p>	
<p>VRAI</p>	<p>Bonne réponse (<input checked="" type="checkbox"/>) cocher</p>
<p>FAUX</p>	<p>Bonne réponse (<input type="checkbox"/>) cocher</p>
<p>Rétroaction si mauvaise réponse:</p>	

Fiche à compléter - 15

<p>QUESTION:</p> <p>Départ: Las Vegas, NV Destination: Salt Lake City, UT Distance à parcourir : 421 miles Votre véhicule consomme 30 litres/100 km Déterminez la quantité de carburant que vous auriez besoin pour vous rendre à destination.</p>	
<p>CHOIX DE RÉPONSE: Une seule réponse possible <input checked="" type="checkbox"/> Plusieurs réponses possibles</p>	
<p>A) 78,9 litres</p>	<p>Bonne réponse (<input type="checkbox"/>) cocher</p>
<p>B) 2245 litres</p>	<p>Bonne réponse (<input type="checkbox"/>) cocher</p>
<p>C) 202,1 litres ou 202 litres</p>	<p>Bonne réponse (<input checked="" type="checkbox"/>) cocher</p>
<p>D) 364,9 litres</p>	<p>Bonne réponse (<input type="checkbox"/>) cocher</p>
<p>Rétroaction si mauvaise réponse: 1 mille = 1,6 km 421 milles = ? 421 X 1,6 divisé par 1 = 673,6 km 30 litres -> 100 km ? -> 673,6 km 673,3 X 30 divisé par 100 = 202,08 litres donc 202,1 litres ou 202 litres</p>	

Fiche à compléter - 16

<p>QUESTION:</p> <p>Combien y aura-t-il de postes de pesée sur votre itinéraire, si vous quittez Détroit, MI pour vous rendre à Grand Rapids, MI ?</p>	
<p>CHOIX DE RÉPONSE: Une seule réponse possible X Plusieurs réponses possibles</p>	
A) 1	Bonne réponse () cocher
B) 2	Bonne réponse (x) cocher
C) 3	Bonne réponse () cocher
D) 4	Bonne réponse () cocher
<p>Rétroaction si mauvaise réponse: En quittant Détroit, MI pour vous rendre à Grand Rapids, il y a deux balances. Coordonnées: Q-10 et P-7</p>	

Fiche à compléter - 17

<p>QUESTION:</p> <p>Départ de Lévis, QC Port d'entrée: Champlain, NY Destination: Mifflinville, PA Utiliser le Rand McNally pour déterminer la réponse.</p> <p>Mise en situation: Vous devez vous rendre à votre destination pour 7h00 AM. Vous savez que le destinataire n'a pas d'espace pour le stationnement de nuit. Vous planifiez de vous arrêter à la halte routière (Rest Area) près du destinataire.</p> <p>Trouvez la halte routière la plus près de votre destination et déterminez le nom de la ville la plus près où se situe celle-ci.</p>	
<p>CHOIX DE RÉPONSE: Une seule réponse possible X Plusieurs réponses possibles</p>	
A) White Haven, PA	Bonne réponse () cocher
B) Nuangola, PA	Bonne réponse () cocher
C) Helterville, PA	Bonne réponse (x) cocher
<p>Rétroaction si mauvaise réponse:</p>	

QUESTION:

Départ de Boucherville, QC (près de la sortie 91)

Destination Wickham, QC

Utiliser la carte du réseau de camionnage pour répondre à cette question:

Mise en situation:

Vous venez de faire une cueillette, donc votre camion semi-remorque est chargé conformément à la réglementation des normes de charges.

Déterminez quelles sont les routes à utiliser avec votre véhicule lourd pour vous rendre à destination?

Plusieurs choix de réponses possibles.

CHOIX DE RÉPONSE: Une seule réponse possible
Plusieurs réponses possibles **X**

A) 20 Est, sortie 157,
à droite Rang Brodeur,
10e Rang O,
à droite 12e Rang,
à gauche 139 Nord.

Bonne réponse
() cocher

B) 20 Est, sortie 147,
à droite Route 116 Est,
à gauche 139 Nord.

Bonne réponse
(**x**) cocher

C) 20 Est, sortie 173,
55 Sud, sortie 116,
139 Sud.

Bonne réponse
(**x**) cocher

Rétroaction si mauvaise réponse:

Selon la carte du réseau de camionnage, une portion du 10e rang O et le 12e rang sont dans la catégorie de chemins et routes non classifiées donc, non recommandées pour le camionnage.

Possibilité #1

**20 Est, sortie 147,
à droite Route 116 Est,
à gauche 139 Nord.**

Possibilité #2

**20 Est, sortie 173,
55 Sud, sortie 116,
139 Sud.**

Fiche à compléter - 19

QUESTION:

Départ: Bathurst, NB

Destination: Moncton, NB

Distance à parcourir : 137 milles

Votre véhicule consomme 35 litres/100 km

Déterminez la quantité de carburant que vous aurez besoin pour vous rendre à destination?

CHOIX DE RÉPONSE: Une seule réponse possible **X**
Plusieurs réponses possibles

A) 76,7 litres

Bonne réponse
(**x**) cocher

B) 626,2 litres

Bonne réponse
() cocher

C) 85,6 litres

Bonne réponse
() cocher

D) 72,4 litres

Bonne réponse
() cocher

Rétroaction si mauvaise réponse:

1 mille -> 1,6 km

137 milles -> ? $137 \times 1,6 \text{ divisé par } 1 = 219,2 \text{ km}$

35 litres -> 100 km

? litres -> 219,2 km $219,2 \times 35 \text{ divisé par } 100 = 76,7 \text{ litres}$

Fiche à compléter - 20

<p>QUESTION:</p> <p>Mis à part bénéficier d'un itinéraire, quel autre avantage pouvons nous retirer d'un GPS ?</p>	
<p>CHOIX DE RÉPONSE: Une seule réponse possible X Plusieurs réponses possibles</p>	
A) Trouver un atelier mécanique	Bonne réponse () cocher
B) Trouver une balance publique de la chaîne Cat Scale	Bonne réponse () cocher
C) Trouver une halte routière	Bonne réponse () cocher
D) Trouver un truck stop.	Bonne réponse () cocher
E) Toutes ces réponses.	Bonne réponse (x) cocher
<p>Rétroaction si mauvaise réponse:</p>	

Fiche à compléter - 21

<p>QUESTION:</p> <p>Mis à part bénéficier d'un itinéraire, quel autre avantage pouvons nous retirer d'un GPS ?</p>	
<p>CHOIX DE RÉPONSE: Une seule réponse possible X Plusieurs réponses possibles</p>	
A) Trouver un atelier mécanique	Bonne réponse () cocher
B) Trouver une balance publique de la chaîne Cat Scale	Bonne réponse () cocher
C) Trouver une halte routière	Bonne réponse () cocher
D) Trouver un truck stop.	Bonne réponse () cocher
<p>Rétroaction si mauvaise réponse:</p>	

QUESTION:

À l'aide du Rand McNally, déterminez la page et le carrelage qui me permet de bien visualiser les environs de l'aéroport International de Tucson, AZ.

CHOIX DE RÉPONSE: Une seule réponse possible **X**
Plusieurs réponses possibles

A) Page 9. Carrelage M-10

Bonne réponse
() cocher

B) Page 8-9. Carrelage A-10

Bonne réponse
() cocher

C) Page 9. Carrelage S,T-3,4

Bonne réponse
(**x**) cocher

D) Page 6-7. Carrelage F-10

Bonne réponse
() cocher

Rétroaction si mauvaise réponse:

Au carrelage M-10 de la page 9 nous retrouvons la ville de Tucson, AZ. Une forme avec un contour grisé sans aucun chiffre attaché, nous indique qu'il y a un agrandissement dans la même page. Dans le coin inférieur gauche de la page se situe l'agrandissement. Lorsque nous allons voir les carrelages S,T-3,4, nous pouvons bien distinguer les environs de l'aéroport ainsi que les rues avoisinantes.



Fiche à compléter - 23

<p>QUESTION: À l'aide du Rand McNally, trouvez quelle est la distance entre Wichita Falls, TX et Montréal, QC ?</p>	
<p>CHOIX DE RÉPONSE: Une seule réponse possible X Plusieurs réponses possibles</p>	
A) 1829 milles P. 150 et 154	Bonne réponse () cocher
B) 1634 kilomètres P. 138 et 157	Bonne réponse () cocher
C) 1728 kilomètres P. 151 et 155	Bonne réponse () cocher
D) 1728 milles P. 151 et 155	Bonne réponse (x) cocher
<p>Rétroaction si mauvaise réponse: Le mileage Directory est en mille et non pas en kilomètre.</p>	

Fiche à compléter - 24

<p>QUESTION: À l'aide du Rand McNally, trouvez quelle est la distance entre Portland, OR et Ventura, CA?</p>	
<p>CHOIX DE RÉPONSE: Une seule réponse possible X Plusieurs réponses possibles</p>	
A) 3144 kilomètres P. 156 et 158	Bonne réponse () cocher
B) 973 milles P. 156 et 158	Bonne réponse (x) cocher
C) 3144 milles P. 156 et 158	Bonne réponse () cocher
D) 973 kilomètres P. 156 et 158	Bonne réponse () cocher
<p>Rétroaction si mauvaise réponse: Attention pour bien choisir Portland, OR et non pas Portland, ME.</p>	

Fiche à compléter - 25

QUESTION:																																																																	
Il y a deux (2) ponts bas sur la I-95 dans l'État de New York.																																																																	
QUESTION VRAI OU FAUX																																																																	
VRAI	Bonne réponse (<input checked="" type="checkbox"/>) cocher																																																																
FAUX	Bonne réponse (<input type="checkbox"/>) cocher																																																																
Rétroaction si mauvaise réponse: Road Atlas, page A.37																																																																	
<table border="1"> <tbody> <tr><td>NY 36</td><td>Dansville—at I-390 overpass</td><td>12'11"</td><td>NK-7</td></tr> <tr><td>NY 37</td><td>Watertown—0.5 mi. north of US 11</td><td>12'6"</td><td>NE-12</td></tr> <tr><td>*NY 38/96</td><td>Owego</td><td>12'7"</td><td>NM-11</td></tr> <tr><td>NY 42</td><td>Lexington—Schoharie Creek bridge</td><td>11'3"</td><td>NL-17</td></tr> <tr><td>NY 55</td><td>Billings—1.3 mi. west at Taconic State Pkwy. overpass</td><td>12'9"</td><td>SA-6</td></tr> <tr><td>US 62</td><td>Gowanda</td><td>12'10"</td><td>NL-3</td></tr> <tr><td>US 62</td><td>Lackawanna—2.9 mi. north of NY 179</td><td>12'4"</td><td>★ NG-9</td></tr> <tr><td>NY 78</td><td>Depew—north of US 20</td><td>12'9"</td><td>NJ-4</td></tr> <tr><td>NY 85</td><td>New Scotland—0.6 mi east of NY 85A</td><td>12'9"</td><td>★ NG-2</td></tr> <tr><td>NY 85</td><td>Slingerlands—0.7 mi. southwest of NY 140</td><td>11'2"</td><td>★ NG-3</td></tr> <tr><td>NY 85A</td><td>Voorheesville—0.2 mi. west of NY 155</td><td>11'3"</td><td>★ NG-2</td></tr> <tr><td>I-87</td><td>Bronx—2.3 mi. south of I-95</td><td>12'9"</td><td>◆ F-11</td></tr> <tr><td>I-95</td><td>Bronx—I-87</td><td>12'7"</td><td>◆ F-11</td></tr> <tr><td>I-95</td><td>Bronx—0.7 mi. east of I-87</td><td>12'10"</td><td>◆ F-11</td></tr> <tr><td>NY 96</td><td>Owego—0.3 mi north of NY 17C</td><td>12'10"</td><td>NM-11</td></tr> <tr><td>NY 96A</td><td>Ovid—3.7 mi. south of NY 336</td><td>12'11"</td><td>NK-10</td></tr> </tbody> </table> <p>list continued on following page</p>		NY 36	Dansville—at I-390 overpass	12'11"	NK-7	NY 37	Watertown—0.5 mi. north of US 11	12'6"	NE-12	*NY 38/96	Owego	12'7"	NM-11	NY 42	Lexington—Schoharie Creek bridge	11'3"	NL-17	NY 55	Billings—1.3 mi. west at Taconic State Pkwy. overpass	12'9"	SA-6	US 62	Gowanda	12'10"	NL-3	US 62	Lackawanna—2.9 mi. north of NY 179	12'4"	★ NG-9	NY 78	Depew—north of US 20	12'9"	NJ-4	NY 85	New Scotland—0.6 mi east of NY 85A	12'9"	★ NG-2	NY 85	Slingerlands—0.7 mi. southwest of NY 140	11'2"	★ NG-3	NY 85A	Voorheesville—0.2 mi. west of NY 155	11'3"	★ NG-2	I-87	Bronx—2.3 mi. south of I-95	12'9"	◆ F-11	I-95	Bronx—I-87	12'7"	◆ F-11	I-95	Bronx—0.7 mi. east of I-87	12'10"	◆ F-11	NY 96	Owego—0.3 mi north of NY 17C	12'10"	NM-11	NY 96A	Ovid—3.7 mi. south of NY 336	12'11"	NK-10
NY 36	Dansville—at I-390 overpass	12'11"	NK-7																																																														
NY 37	Watertown—0.5 mi. north of US 11	12'6"	NE-12																																																														
*NY 38/96	Owego	12'7"	NM-11																																																														
NY 42	Lexington—Schoharie Creek bridge	11'3"	NL-17																																																														
NY 55	Billings—1.3 mi. west at Taconic State Pkwy. overpass	12'9"	SA-6																																																														
US 62	Gowanda	12'10"	NL-3																																																														
US 62	Lackawanna—2.9 mi. north of NY 179	12'4"	★ NG-9																																																														
NY 78	Depew—north of US 20	12'9"	NJ-4																																																														
NY 85	New Scotland—0.6 mi east of NY 85A	12'9"	★ NG-2																																																														
NY 85	Slingerlands—0.7 mi. southwest of NY 140	11'2"	★ NG-3																																																														
NY 85A	Voorheesville—0.2 mi. west of NY 155	11'3"	★ NG-2																																																														
I-87	Bronx—2.3 mi. south of I-95	12'9"	◆ F-11																																																														
I-95	Bronx—I-87	12'7"	◆ F-11																																																														
I-95	Bronx—0.7 mi. east of I-87	12'10"	◆ F-11																																																														
NY 96	Owego—0.3 mi north of NY 17C	12'10"	NM-11																																																														
NY 96A	Ovid—3.7 mi. south of NY 336	12'11"	NK-10																																																														

Fiche à compléter - 26

QUESTION:	
Mon GPS m'indique de passer par une autre douane que celle prévue. Présentez une solution simple pour remédier à cette situation ?	
CHOIX DE RÉPONSE: Une seule réponse possible <input checked="" type="checkbox"/> Plusieurs réponses possibles	
A) Ajouter un arrêt.	Bonne réponse (<input checked="" type="checkbox"/>) cocher
B) Fermer le son du GPS et suivre ma route.	Bonne réponse (<input type="checkbox"/>) cocher
C) Passer par la douane suggérée par mon GPS.	Bonne réponse (<input type="checkbox"/>) cocher
D) Téléphoner le répartiteur pour qu'il change de douane.	Bonne réponse (<input type="checkbox"/>) cocher
Rétroaction si mauvaise réponse:	

--

Fiche à compléter - 27

QUESTION: À l'aide du Rand McNally, définir la (les) couleur(s) des autoroutes à voies divisées dans le Road Atlas ?	
CHOIX DE RÉPONSE: Une seule réponse possible Plusieurs réponses possibles X	
A) Bleu	Bonne réponse (x) cocher
B) Verte	Bonne réponse (x) cocher
C) Rouge	Bonne réponse (x) cocher
D) Noir	Bonne réponse () cocher
Rétroaction si mauvaise réponse: Bleu, vert, rouge. (Road Atlas page 1).	

Fiche à compléter - 28

QUESTION: Départ: St-Stephen, NB Arrivée: Moncton, NB Vous prenez la route 1 pour vous rendre à Moncton. À l'aide du Rand McNally, déterminez la direction que vous devrez prendre.	
CHOIX DE RÉPONSE: Une seule réponse possible X Plusieurs réponses possibles	
A) Nord	Bonne réponse () cocher
B) Sud	Bonne réponse () cocher
C) Est	Bonne réponse (x) cocher
D) Ouest	Bonne réponse () cocher

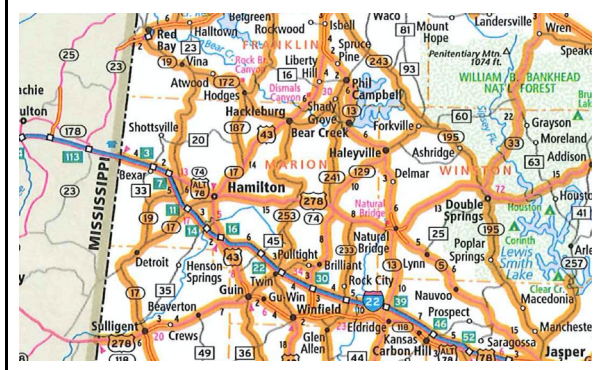
Rétroaction si mauvaise réponse:

Dans le reste du Canada, la notion paire/impair pour les routes n'existe pas.

Fiche à compléter - 29

QUESTION:

Identifiez la signification de la bande orangée sur une route



CHOIX DE RÉPONSE: Une seule réponse possible **X**
Plusieurs réponses possibles

A) Routes tolérées pour les véhicules avec dimensions autorisées STAA	Bonne réponse () cocher
B) Routes désignées pour les véhicules avec dimensions autorisées STAA	Bonne réponse (x) cocher
C) Routes interdites pour les véhicules avec dimensions autorisées STAA	Bonne réponse () cocher

Rétroaction si mauvaise réponse:

Fiche à compléter - 30

QUESTION:

Combien retrouve-t-on de postes de pesée (balances) sur la I-80 dans l'Utah, en direction ouest ?

CHOIX DE RÉPONSE: Une seule réponse possible **X**
Plusieurs réponses possibles

A) Aucun	Bonne réponse () cocher
B) 1 poste de pesée	Bonne réponse () cocher
C) 2 postes de pesée	Bonne réponse (x) cocher
D) 3 postes de pesée	Bonne réponse () cocher

Rétroaction si mauvaise réponse:

(Road Atlas, page A, 44) ou sur la carte directement, mais en regardant dans la section Permanent Weigh Stations, il y a moins de risque d'erreur.

Fiche à compléter - 31

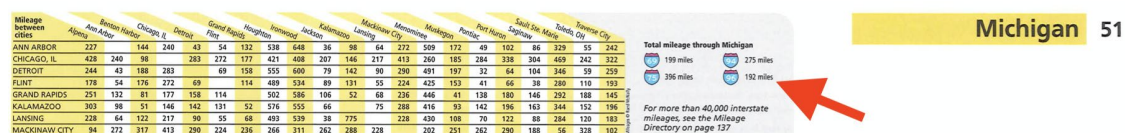
QUESTION:

Combien pouvez-vous parcourir de milles sur la I-96 pour traverser le Michigan ?

CHOIX DE RÉPONSE: Une seule réponse possible
Plusieurs réponses possibles

A) 192 milles	Bonne réponse (<input checked="" type="checkbox"/>) cocher
B) 187 milles	Bonne réponse (<input type="checkbox"/>) cocher
C) 215 milles	Bonne réponse (<input type="checkbox"/>) cocher
D) 212 milles	Bonne réponse (<input type="checkbox"/>) cocher

Rétroaction si mauvaise réponse: 192 mi (Road Atlas, dans le haut de la page 51)



Fiche à compléter - 32

QUESTION:

Vous travaillez pour la compagnie Truck'n Roll et vous devez livrer un podium pour les spectacles à Oshkosh, WI. pour l'événement Annual EAA airventure & sport. Ce lieu est aux environs de la sortie 117 de l'interstate 41 ?

QUESTION VRAI OU FAUX

VRAI	Bonne réponse (<input checked="" type="checkbox"/>) cocher
FAUX	Bonne réponse (<input type="checkbox"/>) cocher

Rétroaction si mauvaise réponse:

Road Atlas page 115, carrelage M-2

--

Fiche à compléter - 28

QUESTION: Lorsque vous allez de Pueblo, CO en direction de Fort Collins, CO. Démontrez quelle route vous permet d'éviter les embouteillages de Denver, CO ?	
CHOIX DE RÉPONSE: Une seule réponse possible X Plusieurs réponses possibles	
A) I-225	Bonne réponse () cocher
B) I-270	Bonne réponse () cocher
C) E-470	Bonne réponse (x) cocher
D) I-25	Bonne réponse () cocher
Rétroaction si mauvaise réponse: (Road Atlas page 21 et agrandissement à la page 22)	

Fiche à compléter - 33

QUESTION: Aux États-Unis et au Québec, la numérotation des routes qui vont du Sud vers le Nord est paire.	
QUESTION VRAI OU FAUX	
VRAI	Bonne réponse () cocher
FAUX	Bonne réponse (x) cocher
Rétroaction si mauvaise réponse: Cahier d'élève leçon 6.7.	

Fiche à compléter - 34

<p>QUESTION:</p> <p>S'il est 11h00 AM à Montréal, QC, définir quelle heure il est à Anchorage, AK.</p>	
<p>CHOIX DE RÉPONSE: Une seule réponse possible X Plusieurs réponses possibles</p>	
A) 5h00 AM	Bonne réponse () cocher
B) 6h00 AM	Bonne réponse () cocher
C) 7h00 AM	Bonne réponse (x) cocher
D) 8h00 AM	Bonne réponse () cocher
<p>Rétroaction si mauvaise réponse:</p> <p>(Road Atlas page 2 et 3)</p>	

Fiche à compléter - 35

<p>QUESTION:</p> <p>À l'aide du Rand McNally, Trouvez la distance en kilomètre de Halifax, NS à Vancouver, BC.</p>	
<p>CHOIX DE RÉPONSE: Une seule réponse possible X Plusieurs réponses possibles</p>	
A) 3626 Km	Bonne réponse () cocher
B) 5485 Km	Bonne réponse () cocher
C) 5835 Km	Bonne réponse (x) cocher
D) 6850 Km	Bonne réponse () cocher
<p>Rétroaction si mauvaise réponse:</p> <p>(Road Atlas page 117)</p>	

Fiche à compléter - 28

QUESTION:	
CHOIX DE RÉPONSE: Une seule réponse possible X Plusieurs réponses possibles	
A)	Bonne réponse (x) cocher
B)	Bonne réponse () cocher
C)	Bonne réponse () cocher
D)	Bonne réponse () cocher
Rétroaction si mauvaise réponse:	

Fiche à compléter - 28

QUESTION:	
CHOIX DE RÉPONSE: Une seule réponse possible X Plusieurs réponses possibles	
A)	Bonne réponse (x) cocher
B)	Bonne réponse () cocher
C)	Bonne réponse () cocher
D)	Bonne réponse () cocher
Rétroaction si mauvaise réponse:	

Fiche à compléter - 28

QUESTION:	
CHOIX DE RÉPONSE: Une seule réponse possible X Plusieurs réponses possibles	
A)	Bonne réponse (x) cocher
B)	Bonne réponse () cocher
C)	Bonne réponse () cocher
D)	Bonne réponse () cocher
Rétroaction si mauvaise réponse:	