

# Document de référence de l'enseignant

## Questionnaire de récupération et d'enrichissement Compétence 6, 1ère partie : Planification d'un voyage

### Leçons à récupérer

Leçon 06.01-Info Voyage

Leçon 06.02-Carte provinciale traditionnelle et structure du réseau routier québécois

Leçon 06.04-Carte municipale traditionnelle (*aide à l'apprentissage*)

Leçon 06.06-Fonctionnement d'une carte routière électronique

Leçon 06.07-Carte nationale et internationale traditionnelle, fonctionnement et informations

Outils de référence: Atlas internationale Rand McNally 2019 + Réseau de camionnage du Québec + Montréal et environ MapArt +Google map + cahier de l'élève.

### 6.02 carte du Québec

1. Sur l'autoroute 20, quelle distance y a-t-il entre la sortie sud du pont-tunnel Louis-H-Lafontaine et le pont Pierre Laporte à Québec ?

---

2. Où se trouve géographiquement parlant les routes numérotées commençant par 200 ?

---

3. Au Québec, quel est l'axe d'orientation des routes paires ?

---

4. Déterminer l'appellation des routes suivantes :

- a. 35 :

---

- b. 640 :

---

- c. 520 :

---

- d. 573 :

---

e. 105 :

---

5. Quelle est la distance entre Gaspésie et Montréal ?

---



6. Que signifie ce panneau vu sur la carte du Québec ?

---



7. Que signifie ce panneau ?

---

### **6.03 carte de Montréal**

8. Vous circulez sur la A-40 est et vous voulez emprunter la A-15 sud. Quel sera le numéro de la sortie?

---

9. Quelles sont les autoroutes qui empruntent le pont Samuel de Champlain ?

---

10. De quelle couleur sont les zones industrielles ?

---

11. À quelles pages retrouve-t-on la carte localisatrice servant à identifier les points de départ et d'arrivée ?

---

12. Si vous circulez sur la A-40 ouest, est-il possible de vous rendre sur le chemin St-Francois directement par le boulevard Poirier ?

---

13. Dans Cartierville, on retrouve les rues Dudemaine et Salaberry. Laquelle des rues précédentes passe par-dessus la A-15 ?

---

Par-dessous la A-15 ?

---

14. Que signifie la partie ombragée de l'A-13, entre le boulevard de la Côte-Vertu et le chemin de la Côte-de-Liesse ?

---

15. À Montréal, quel boulevard rencontre le boulevard Pie-IX à l'adresse 9600 Pie-IX ?

---

16. Que signifient les flèches sur la rue Sanguinet à Montréal ?

---

17. Lorsque vous circulez sur l'A-13 en direction sud, de quel côté se situe l'est ?

---

### **6.05 GPS**

18. Mis à part bénéficier d'un itinéraire, quelle autre commodité je peux tirer de mon GPS ? A-Trouver un atelier mécanique B-Trouver une balance publique de la chaîne Catscale C-Trouver une halte routière D-Trouver un truck stop E-Toutes ces réponses

19. Quels seraient les avantages d'adapter mon GPS selon le type de camion et remorque ? A-Éviter les ponts trop bas (low bridge) B-Éviter les routes étroites C-Éviter les routes avec restriction de poids D-Toutes ces réponses

20. Le GPS est-il un outil précis à 100%? A-Oui B-Non

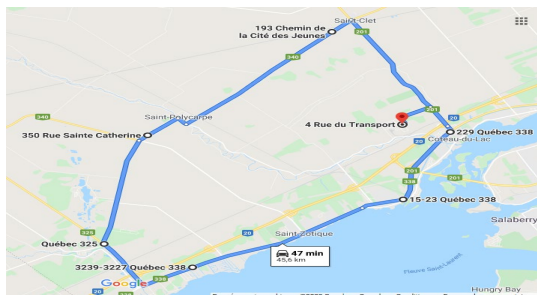
21. Quelle option pourrait m'être utile sur un GPS en cas d'accident ? A-Caméra (dashcam) B-Registre électronique C-Distributeur de café

22. Mon GPS veut me faire passer par une autre douane que celle prévue, quelle serait la solution la plus simple pour remédier à la situation ? A-Ajouter un arrêt B-Fermer le son du GPS et suivre ma route C-Passer par la douane suggérée par mon GPS D-Téléphoner le répartiteur pour qu'il change de douane

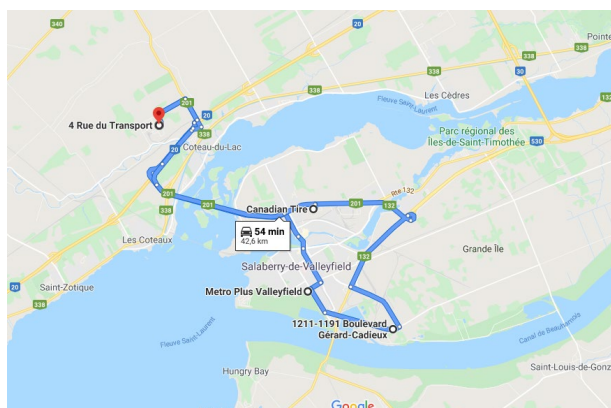
23. Une fois l'itinéraire programmé dans le GPS, quelles seraient les prochaines étapes?  
 A-Comparer avec une carte électronique B-Demander le chemin à mon répartiteur C-  
 Valider avec mes cartes routières D-Toutes ses réponses
24. Quelles seraient les principales commodités d'utiliser Street view ? A-M'assurer que  
 j'arriverai du bon côté de la route B-Me trouver des points de repère C-Voir où sont  
 les quais de chargement D-Toutes ces réponses

### 6.06 Carte électronique

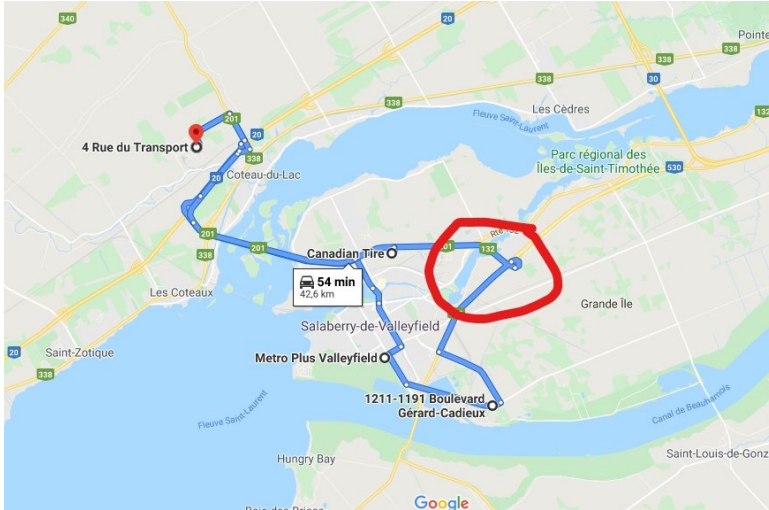
25. Quelle est la direction de la route 201 ? A-ouest-est B-sud-nord
26. Quelle est la direction de la route 340 ?A-ouest-est B-sud-nord



27. Quelle est la direction de la route 325 ?A-ouest-est B-sud-nord
28. Quelle est la direction de la route 338 ?A-ouest-est B-sud-nord



29. Qu'est-ce qui différencie la route 201 versus les routes 340, 325 et 338 ? A- La  
 route 201 n'est pas dans la même direction B- La route 201 prend ses origines au  
 sud du fleuve C- La route 201 traverse une frontière.
30. En utilisant votre carte électronique, en quoi devez-vous porter une attention  
 particulière sur route 201 à Salaberry-de-Valleyfield ?A-Camion interdit voie de  
 gauche B-Diminution de la limite de vitesse C-Stationnement interdit sur l'accotement  
 D-Toutes ces réponses



31. Quelle route provinciale vais-je croiser ? A-20 B-132 C-201 D-530
32. À l'aide d'une carte routière papier ou électronique, combien de routes vais-je trouver dans le cercle rouge ? A-1 B-2 C-3 D-4 (132-201-530)

### **6.7 carte internationale**

33. À quelle page et quel carrelage retrouve-t-on la ville de Tucson, Az ?
- 
34. Aux quelles pages se trouve l'index des États et provinces ?
- 
35. Aux quelles pages se trouvent les informations légales et/ou utiles telles que ponts bas (low bridge), poids maximal, etc. (autre que les cartes) ?
- 
36. Quelle est la distance entre Wichita Falls, Tx et Montréal, QC ?
- 
37. Est-ce qu'il y a un pont bas (low bridge) sur la I-95 dans l'état de New York ?
- 
38. Pour la majorité des États, quelle est la MTC permise ?
-

39. Quelle couleur sont les autoroutes à voie divisée dans le Rand McNally ?

---

40. Combien pouvez-vous parcourir de miles sur la I-96 pour traverser le Michigan ?

---

41. Combien retrouve-t-on de balances sur la I-80 dans l'Utah, en direction ouest ?

---

42. Vous travaillez pour la Cie Truck'n'roll et vous devez livrer un podium pour les spectacles à Oshkosh, Wi. Quel événement cette ville reçoit-elle annuellement ?

---

43. Lorsque vous vous rendez de Pueblo, Co, à Fort Collins, Co, quelle route vous permet d'éviter les embouteillages de Denver, Co ?

---

44. Aux É.-U., les autoroutes qui vont du Sud vers le Nord sont paires ou impaires ?

---

45. S'il est 11h00 AM à Montréal, quelle heure est-il à Anchorage, AK ?

---

46. Trouvez la distance en kilomètre de Halifax, NS, à Vancouver, BC ?

---

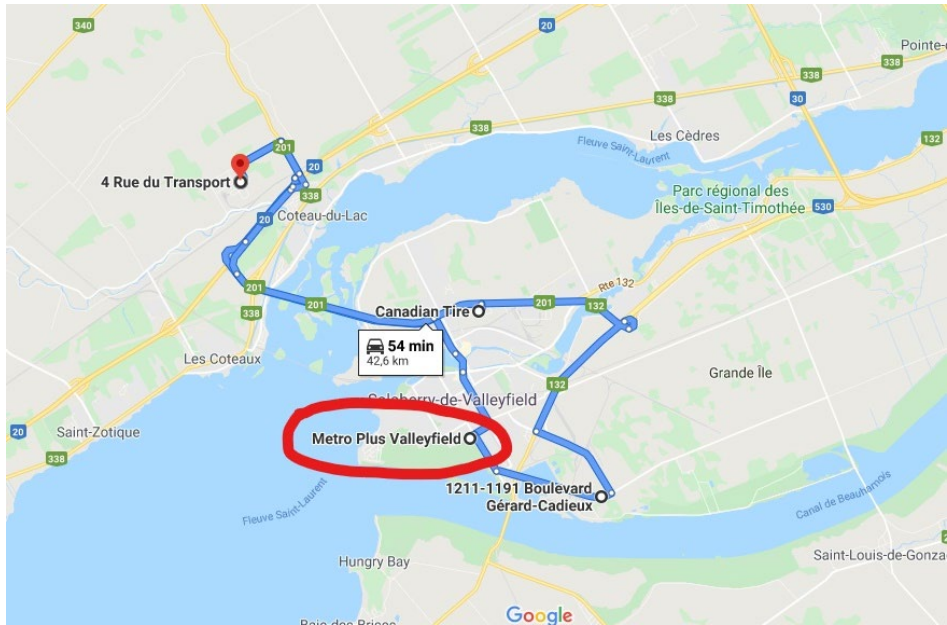
47. Ou est-il possible de trouver un glossaire anglais-français des termes utilisés au Canada ?

---

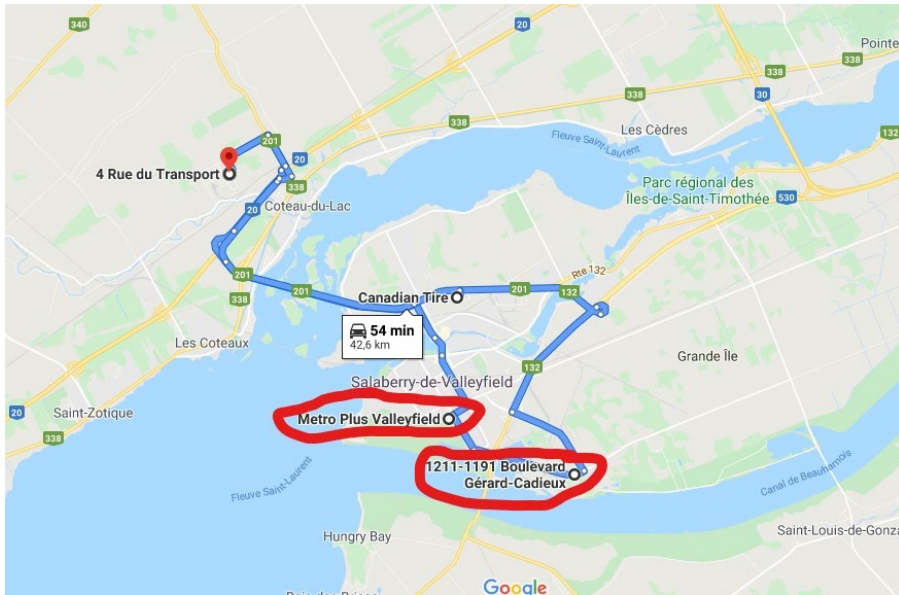
48. Est-il possible d'entrer aux É.-U. par Sarnia, ON ?

---

## **6.9 planification urbaine**



49. À l'aide d'une carte électronique, à quoi dois-je faire attention en allant chez Métro Plus Valleyfield ? A-Aux feux de circulation B-À la limite de vitesse C-Aux piétons D-Au virage étroit pour entrer dans la cour



50. Lequel de ces 2 quartiers se situe dans un parc industriel ? A-Boulevard Gérard-Cadieux B-Métro Plus Valleyfield

### GPS et Carte électronique

51. Mis à part mon itinéraire pour me rendre chez mon client, quelle autre utilité je peux tirer de mon GPS ? A-Trouver un atelier mécanique B-Trouver une balance publique de la chaîne Catscale C-Trouver une halte routière D-Trouver un truck stop E-Toutes ces réponses
52. Quels seraient les avantages de bien régler mon GPS selon le type de camion et remorque ? A-Éviter les ponts trop bas (low bridge) B-Éviter les routes étroites C-Éviter les routes avec restriction de poids D-Toutes ces réponses
53. Est-ce que je peux me fier à 100% à mon GPS ? A-Oui B-Non
54. Quelle option pourrait m'être utile sur GPS en cas d'accident ? A-Caméra (dashcam) B-Registre électronique C-Distributeur de café
55. Si mon GPS veut me faire passer par une autre douane que prévu, quelle serait la solution la plus simple pour remédier à la situation ? A-Ajouter un arrêt B-Fermer le son du GPS et suivre ma route C-Passer par la douane suggérée par mon GPS D-Téléphoner le répartiteur pour qu'il change de douane
56. Une fois mon itinéraire programmé dans mon GPS, quelles seraient les prochaines étapes? A-Comparer avec ma carte électronique B-Demander le chemin à mon répartiteur C-Valider avec mes cartes routières papiers D-Toutes ses réponses
57. Quelles seraient les principales utilités d'utiliser Street view ? A-M'assurer que j'arriverai du bon côté de la route B-Me trouver des points de repère C-Voir où sont les quais de chargement D-Toutes ces réponses