

## Exercice récupération préventive

Cette période a pour objectif de réviser le contenu des leçons 3.2, 3.3, 3.4, 3.6, 3.7 et 3.8 afin de prévenir les difficultés d'apprentissage.

Bonne récupération!!

## Question à choix multiples.

---

Fiche à compléter - 1

Leçon: 3.4

QUESTION:

Vous remarquez que le niveau d'huile d'un moyeu de roue de l'essieu directionnel est sous le niveau recommandé.

**Cette situation est...**

CHOIX DE RÉPONSE:

A) Non visée par la ronde de sécurité.

Bonne réponse  
( ) cocher

B) Conforme au règlement.

Bonne réponse  
( ) cocher

C) Considérée comme une infraction au code, si vous ne remédiez pas à cette situation.

Bonne réponse  
( ) cocher

D) Une défectuosité visée à la liste 1.

Bonne réponse  
( ) cocher

Référence :

## Question à choix multiples.

Fiche à compléter - 2

Leçon: 3.4

QUESTION:

Vous effectuez l'inspection et vous remarquez qu'aucun feu ne s'allume à l'arrière du véhicule.

Que ferez-vous ?



CHOIX DE RÉPONSE:

A) Vous ne pouvez pas circuler avec cet ensemble de véhicule, puisque c'est une défectuosité majeure.	Bonne réponse ( ) cocher
B) Vous pouvez circuler cependant, vous devez vous abstenir d'utiliser vos clignotants, pour ne pas induire en erreur ceux qui vous suivent.	Bonne réponse ( ) cocher
C) Vous devez faire réparer la défectuosité avant de circuler.	Bonne réponse ( ) cocher
D) Vous devez inscrire la défectuosité dans votre rapport de ronde de sécurité (RDS) papier ou électronique.	Bonne réponse ( ) cocher

Référence :

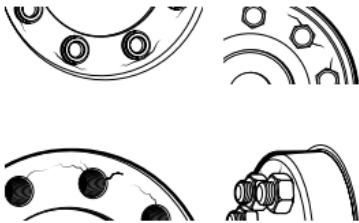
## Question à choix multiples.

Fiche à compléter - 3

Leçon: 3.4

QUESTION:

Vous détectez des fissures sur une des roues. **Que devriez-vous faire ?**



CHOIX DE RÉPONSE: Plusieurs réponses possibles

A) Vous ne pouvez pas circuler avec cet ensemble de véhicule, puisque c'est une déféctuosité majeure.	Bonne réponse ( ) cocher
B) Vous pouvez circuler cependant, vous devez vous abstenir d'utiliser vos clignotants, pour ne pas induire en erreur ceux qui vous suivent.	Bonne réponse ( ) cocher
C) Vous devez faire réparer la déféctuosité (changer la roue) avant de circuler.	Bonne réponse ( ) cocher
D) Vous devez inscrire la déféctuosité dans votre rapport de ronde de sécurité (RDS) papier ou électronique.	Bonne réponse ( ) cocher

Référence :

## Question à choix multiples.

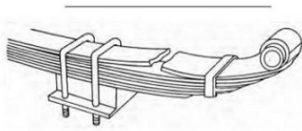
Fiche à compléter - 4

Leçon: 3.4

QUESTION:

Vous constatez le bris de cette lame (lame maîtresse) pendant votre inspection.

**Que devez-vous faire ?**



CHOIX DE RÉPONSE: Plusieurs réponses possibles

A) Prendre la route pour livrer la marchandise car il en reste plusieurs.	Bonne réponse ( ) cocher
B) Seulement l'inscrire dans la ronde de sécurité.	Bonne réponse ( ) cocher
C) Je dois l'inscrire dans la ronde de sécurité et le signaler à l'exploitant.	Bonne réponse ( ) cocher
D) Je dois la faire réparer avant de prendre la route.	Bonne réponse ( ) cocher

Référence :

## Question - Vrai ou Faux

---

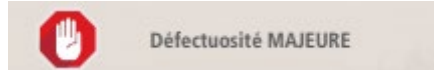
Fiche à compléter - 5

Leçon: 3.4

QUESTION:

Vous remarquez qu'un moyeu de roue de l'essieu de direction n'a plus d'huile.

Ceci est une :



CHOIX DE RÉPONSE:

VRAI

Bonne réponse  
( ) cocher

FAUX

Bonne réponse  
( ) cocher

Référence :

## Question - Vrai ou Faux

---

Fiche à compléter - 6

Leçon: 3.4

QUESTION:

Vous entendez une fuite d'air sur un ensemble de véhicule camion semi-remorque. La lecture de la jauge vous donne un résultat de 5 lbs par minute.

**Cette fuite est considérée comme une défectuosité mineure ?**

CHOIX DE RÉPONSE:

VRAI

Bonne réponse  
( ) cocher

FAUX

Bonne réponse  
( ) cocher

Référence :

## Question - Vrai ou Faux

---

Fiche à compléter - 7

Leçon: 3.4

QUESTION:

Le niveau de liquide (huile) dans le réservoir de servodirection est inférieur au minimum requis.



**Vous pouvez circuler, si vous l'inscrivez dans le rapport de la ronde de sécurité et le signaler à l'exploitant.**

CHOIX DE RÉPONSE:

VRAI

Bonne réponse  
( ) cocher

FAUX

Bonne réponse  
( ) cocher

Référence :



## Question - Vrai ou Faux

---

Fiche à compléter - 8

Leçon: 3.4

QUESTION:

Vous inspectez votre véhicule et vous entendez une fuite d'air au niveau des ballons de suspension. Vous constatez que le compresseur d'air compense la fuite.

**C'est une défectuosité mineure.**



CHOIX DE RÉPONSE:

VRAI

Bonne réponse  
( ) cocher

FAUX

Bonne réponse  
( ) cocher

Référence :

## Question à choix multiples.

---

Fiche à compléter - 1

Leçon: 3.6

QUESTION:  <b>Mise en situation:</b> Vous avez reculé trop brusquement contre le quai de transbordement. <b>Le client vous demande ce qu'il en adviendra pour les dommages causés.</b>	
CHOIX DE RÉPONSE: Une seule réponse possible <b>X</b> Plusieurs réponses possibles	
A) Vous lui dites de vous faire une facture.	Bonne réponse ( ) cocher
B) Vous partez en mentionnant que vous n'avez pas heurté le quai.	Bonne réponse ( ) cocher
C) Vous appelez la police.	Bonne réponse ( ) cocher
D) Vous prenez le temps de noter les dommages possibles et photographiez ceux-ci. Vous contactez votre employeur et au besoin vous vous assurez que le client a toutes les informations pour entrer en contact avec votre employeur avant de quitter.	Bonne réponse ( ) cocher

## Question - Vrai ou Faux

---

Fiche à compléter - 2

Leçon: 3.6

QUESTION:

**Mise en situation:** Vous faites une embardée causant des bris sur une glissière de sécurité de la voie publique.

**Vous pouvez repartir sans vous en préoccuper, car ce n'est qu'une glissière.**

CHOIX DE RÉPONSE:

VRAI

Bonne réponse  
( ) cocher

FAUX

Bonne réponse  
( ) cocher

## Question à choix multiples.

---

Fiche à compléter - 1

Leçon: 3.7

QUESTION: <b>Quel énoncé s'applique aux travailleurs ?</b>	
CHOIX DE RÉPONSE:	
A) Fournir les équipements appropriés.	Bonne réponse ( ) cocher
B) Donner une formation continue selon les besoins.	Bonne réponse ( ) cocher
C) Toujours choisir l'option de travail la plus sécuritaire.	Bonne réponse ( ) cocher
D) Doit s'assurer de la connaissance des règles de santé sécurité.	Bonne réponse ( ) cocher
Référence :	

## Question - Vrai ou Faux

---

Fiche à compléter - 2

Leçon: 3.7

QUESTION:

**Mise en situation:** Vous devez effectuer une tâche qui vous semble très risquée pour vous.

**Vous pouvez refuser d'effectuer la tâche pour de bonnes raisons.**

CHOIX DE RÉPONSE:

VRAI

Bonne réponse  
( ) cocher

FAUX

Bonne réponse  
( ) cocher

Référence :

## Question à choix multiples.

---

Fiche à compléter - 1

Leçon: 3.8

QUESTION:

Question en lien avec les heures de conduite et de repos.

**Mise en situation:**

**Lors de la vérification de votre fiche journalière par un contrôleur routier, combien de journées devriez-vous être en mesure de démontrer ?**

CHOIX DE RÉPONSE:

A) 13 jours	Bonne réponse ( ) cocher
B) 14 jours	Bonne réponse ( ) cocher
C ) 16 jours	Bonne réponse ( ) cocher
D ) 30 jours	Bonne réponse ( ) cocher
Référence :	

# Question à choix multiples.

Fiche à compléter - 2

Leçon: 3.8

**QUESTION:**

**Mise en situation:** Vous complétez votre fiche journalière comme tous les jours. Après votre dîner, vous aurez à présenter votre fiche journalière pour un contrôle.

**Selon la fiche ci-dessous, est-ce qu'il y a une information manquante ?**

Date: 20 11/ 25		# immatriculation: L751712	# unité: 3055																																																																																																																																						
<input checked="" type="checkbox"/> Cycle 1 (70 h / 7 J) <input type="checkbox"/> Cycle 2 (120 h / 14 J)		# immatriculation: RQ 3764	# unité: 5335																																																																																																																																						
Heure de début de la journée (grille de 24 heures) si différente de minut: _____		Odomètre début: _____	Odomètre fin: _____																																																																																																																																						
Distance totale parcourue: _____																																																																																																																																									
Établissement principal: Transport ABC, 24 du cerf, Grand-Mère, QC		Terminus d'attache: Transport ABC, 1140 Capri, Trois-Rivières, QC																																																																																																																																							
total des heures																																																																																																																																									
<table style="width: 100%; border-collapse: collapse;"> <tr> <td style="width: 5%;"></td> <td style="width: 5%;">minut</td> <td style="width: 5%;">1</td><td>2</td><td>3</td><td>4</td><td>5</td><td>6</td><td>7</td><td>8</td><td>9</td><td>10</td><td>11</td><td>12</td><td>13</td><td>14</td><td>15</td><td>16</td><td>17</td><td>18</td><td>19</td><td>20</td><td>21</td><td>22</td><td>23</td><td>24</td> </tr> <tr> <td>repos</td> <td></td><td></td><td></td><td></td><td></td><td></td><td></td><td></td><td></td><td></td><td></td><td></td><td></td><td></td><td></td><td></td><td></td><td></td><td></td><td></td><td></td><td></td><td></td><td></td><td></td><td></td> </tr> <tr> <td>couchette</td> <td></td><td></td><td></td><td></td><td></td><td></td><td></td><td></td><td></td><td></td><td></td><td></td><td></td><td></td><td></td><td></td><td></td><td></td><td></td><td></td><td></td><td></td><td></td><td></td><td></td><td></td> </tr> <tr> <td>conduite</td> <td></td><td></td><td></td><td></td><td></td><td></td><td></td><td></td><td></td><td></td><td></td><td></td><td></td><td></td><td></td><td></td><td></td><td></td><td></td><td></td><td></td><td></td><td></td><td></td><td></td><td></td> </tr> <tr> <td>service</td> <td></td><td></td><td></td><td></td><td></td><td></td><td></td><td></td><td></td><td></td><td></td><td></td><td></td><td></td><td></td><td></td><td></td><td></td><td></td><td></td><td></td><td></td><td></td><td></td><td></td><td></td> </tr> </table>					minut	1	2	3	4	5	6	7	8	9	10	11	12	13	14	15	16	17	18	19	20	21	22	23	24	repos																											couchette																											conduite																											service																										
	minut	1	2	3	4	5	6	7	8	9	10	11	12	13	14	15	16	17	18	19	20	21	22	23	24																																																																																																																
repos																																																																																																																																									
couchette																																																																																																																																									
conduite																																																																																																																																									
service																																																																																																																																									
Remarques: Trois-Rivières QC / Trenton ON																																																																																																																																									
Utilisation fins Od. Début: personnelles: Od fin		Temps de repos différé: jour 1 <input type="checkbox"/> jour 2 <input type="checkbox"/>																																																																																																																																							
Nom du conducteur: M. Conducteur		14 jours précédents: 14 13 12 11 10 9 8 7 6 5 4 3 2 1																																																																																																																																							
Signature du conducteur: _____		Heures de repos: _____																																																																																																																																							
		Heures de service: _____																																																																																																																																							
		Nom du coconducteur: _____																																																																																																																																							

**CHOIX DE RÉPONSE:**

A) Le cycle et la signature	Bonne réponse ( ) cocher
B) Le cycle	Bonne réponse ( ) cocher
C) L'heure de début de la journée	Bonne réponse ( ) cocher
D) L'odomètre du véhicule	Bonne réponse ( ) cocher

Référence :

# Question à choix multiples.

Fiche à compléter - 3

Leçon: 3.8

Date: 20 <b>11</b> / 25	# immatriculation: <b>L751712</b>	# unité: <b>3055</b>																																																																																																								
<input checked="" type="checkbox"/> Cycle 1 (70 h / 7 j) <input type="checkbox"/> Cycle 2 (120 h / 14 j)	# immatriculation: <b>RQ 3764</b>	# unité: <b>5335</b>																																																																																																								
Heure de début de la journée (grille de 24 heures) si différente de minuit: _____	Odomètre début: <b>262457</b>	Odomètre fin: _____																																																																																																								
Établissement principal: <b>Transport ABC, 24 du cerf, Grand-Mère, QC</b>		Terminus d'attache: <b>Transport ABC, 1140 Capri, Trois-Rivières, QC</b>																																																																																																								
Distance totale parcourue: _____		total des heures																																																																																																								
<table border="1"> <tr> <td>repos</td> <td colspan="24">[Grille de 24 heures]</td> <td>_____</td> </tr> <tr> <td>couchette</td> <td colspan="24">[Grille de 24 heures]</td> <td>_____</td> </tr> <tr> <td>conduite</td> <td colspan="24">[Grille de 24 heures]</td> <td>_____</td> </tr> <tr> <td>service</td> <td colspan="24">[Grille de 24 heures]</td> <td>_____</td> </tr> </table>			repos	[Grille de 24 heures]																								_____	couchette	[Grille de 24 heures]																								_____	conduite	[Grille de 24 heures]																								_____	service	[Grille de 24 heures]																								_____
repos	[Grille de 24 heures]																								_____																																																																																	
couchette	[Grille de 24 heures]																								_____																																																																																	
conduite	[Grille de 24 heures]																								_____																																																																																	
service	[Grille de 24 heures]																								_____																																																																																	
Remarques: <b>Trois-Rivières QC / Trenton ON</b>																																																																																																										
Utilisation fins Od Début: _____ personnelles: _____ Od fin: _____	Temps de repos différé: Jour 1 <input type="checkbox"/> Jour 2 <input type="checkbox"/>	14 jours précédents: 14 13 12 11 10 9 8 7 6 5 4 3 2 1 Heures de repos: [ ] [ ] [ ] [ ] [ ] [ ] [ ] [ ] [ ] [ ] [ ] [ ] [ ] [ ] Heures de service: [ ] [ ] [ ] [ ] [ ] [ ] [ ] [ ] [ ] [ ] [ ] [ ] [ ] [ ]																																																																																																								
Nom du conducteur: <b>M. Conducteur</b>		Nom du coconducuteur: _____																																																																																																								
Signature du conducteur: _____																																																																																																										

QUESTION:

**Mise en situation:** Après votre dîner, vous comptabilisez les heures de conduite qu'il vous reste.

**Combien d'heures de conduite vous reste-t-il pour terminer votre journée ?**

CHOIX DE RÉPONSE: Une seule réponse possible   
Plusieurs réponses possibles

A) 8 heures

Bonne réponse  
( ) cocher

B) 8,25 heures

Bonne réponse  
( ) cocher



C) 8,5 heures

Bonne réponse  
( ) cocher

Référence :

# Question à choix multiples.

Fiche à compléter - 4

Leçon: 3.8

Date: 20 <b>11</b> / 25	# immatriculation: <b>L751712</b>	# unité: <b>3055</b>																																																																																																																																																								
<input checked="" type="checkbox"/> Cycle 1 (70 h / 7 j) <input type="checkbox"/> Cycle 2 (120 h / 14 J)	# immatriculation: <b>RQ 3764</b>	# unité: <b>5335</b>																																																																																																																																																								
Heure de début de la journée (grille de 24 heures) si différente de minuit: _____	Odomètre début: <b>262457</b>	Odomètre fin: _____																																																																																																																																																								
Établissement principal: <b>Transport ABC, 24 du cerf, Grand-Mère, QC</b>		Terminus d'attache: <b>Transport ABC, 1140 Capri, Trois-Rivières, QC</b>																																																																																																																																																								
<table border="1"> <tr> <td>minuit</td> <td>1</td><td>2</td><td>3</td><td>4</td><td>5</td><td>6</td><td>7</td><td>8</td><td>9</td><td>10</td><td>11</td><td>12</td><td>13</td><td>14</td><td>15</td><td>16</td><td>17</td><td>18</td><td>19</td><td>20</td><td>21</td><td>22</td><td>23</td><td>24</td> <td>total des heures</td> </tr> <tr> <td>repos</td> <td colspan="23">[Bar chart showing 7.75h of rest]</td> <td></td> </tr> <tr> <td>couchette</td> <td colspan="23">[Bar chart showing 4.75h of couchette]</td> <td></td> </tr> <tr> <td>conduite</td> <td colspan="23">[Bar chart showing 6h of driving]</td> <td></td> </tr> <tr> <td>service</td> <td colspan="23">[Bar chart showing 1h of service]</td> <td></td> </tr> <tr> <td>minuit</td> <td>1</td><td>2</td><td>3</td><td>4</td><td>5</td><td>6</td><td>7</td><td>8</td><td>9</td><td>10</td><td>11</td><td>12</td><td>13</td><td>14</td><td>15</td><td>16</td><td>17</td><td>18</td><td>19</td><td>20</td><td>21</td><td>22</td><td>23</td><td>24</td> <td></td> </tr> </table>			minuit	1	2	3	4	5	6	7	8	9	10	11	12	13	14	15	16	17	18	19	20	21	22	23	24	total des heures	repos	[Bar chart showing 7.75h of rest]																								couchette	[Bar chart showing 4.75h of couchette]																								conduite	[Bar chart showing 6h of driving]																								service	[Bar chart showing 1h of service]																								minuit	1	2	3	4	5	6	7	8	9	10	11	12	13	14	15	16	17	18	19	20	21	22	23	24	
minuit	1	2	3	4	5	6	7	8	9	10	11	12	13	14	15	16	17	18	19	20	21	22	23	24	total des heures																																																																																																																																	
repos	[Bar chart showing 7.75h of rest]																																																																																																																																																									
couchette	[Bar chart showing 4.75h of couchette]																																																																																																																																																									
conduite	[Bar chart showing 6h of driving]																																																																																																																																																									
service	[Bar chart showing 1h of service]																																																																																																																																																									
minuit	1	2	3	4	5	6	7	8	9	10	11	12	13	14	15	16	17	18	19	20	21	22	23	24																																																																																																																																		
Remarques																																																																																																																																																										
Trois-Rivières / Trenton / Sudbury QC / ON / ON																																																																																																																																																										
Utilisation fins personnelles: _____	Od. Début: _____	Od. fin: _____																																																																																																																																																								
Temps de repos différé: Jour 1 <input type="checkbox"/> Jour 2 <input type="checkbox"/>		14 jours précédents																																																																																																																																																								
Nom du conducteur: <b>M. Conducteur</b>		Heures de repos																																																																																																																																																								
Signature du conducteur: _____		Heures de service																																																																																																																																																								
		14 13 12 11 10 9 8 7 6 5 4 3 2 1																																																																																																																																																								

QUESTION:

**Mise en situation:**

Après votre livraison, vous comptabilisez les heures de conduite qu'il vous reste.

**Combien d'heures de conduite vous reste-t-il ?**

CHOIX DE RÉPONSE: Une seule réponse possible   
Plusieurs réponses possibles

A) 1.5 heures

Bonne réponse  
( ) cocher

B) 2.25 heures

Bonne réponse  
( ) cocher

C) 2.5 heures

Bonne réponse  
( ) cocher

Référence :

# Question à choix multiples.

Fiche à compléter - 5  
Leçon: 3.8

QUESTION:

**Mise en situation:**

En fin de journée, vous terminez votre fiche journalière.

**Identifier une ou plusieurs anomalies.**

Date: 20/11/25	# immatriculation: L751712	# unité: 3055																																																																																																																																																								
<input checked="" type="checkbox"/> Cycle 1 (70 h / 7 J) <input type="checkbox"/> Cycle 2 (120 h / 14 J)	# immatriculation: RQ 3764	# unité: 5335																																																																																																																																																								
Heure de début de la journée (grille de 24 heures) si différente de minuit: _____	Odomètre début: 262457	Odomètre fin: _____																																																																																																																																																								
Établissement principal: Transport ABC, 24 du cerf, Grand-Mère, QC		Terminus d'attache: Transport ABC, 1140 Capri, Trois-Rivières, QC																																																																																																																																																								
<table border="1"> <tr> <td>minuit</td><td>1</td><td>2</td><td>3</td><td>4</td><td>5</td><td>6</td><td>7</td><td>8</td><td>9</td><td>10</td><td>11</td><td>12</td><td>13</td><td>14</td><td>15</td><td>16</td><td>17</td><td>18</td><td>19</td><td>20</td><td>21</td><td>22</td><td>23</td><td>24</td> <td>total des heures</td> </tr> <tr> <td>repos</td><td colspan="23">[Barres de repos]</td><td>_____</td> </tr> <tr> <td>couchette</td><td colspan="23">[Barres de couchette]</td><td>_____</td> </tr> <tr> <td>conduite</td><td colspan="23">[Barres de conduite]</td><td>_____</td> </tr> <tr> <td>service</td><td colspan="23">[Barres de service]</td><td>_____</td> </tr> <tr> <td>minuit</td><td>1</td><td>2</td><td>3</td><td>4</td><td>5</td><td>6</td><td>7</td><td>8</td><td>9</td><td>10</td><td>11</td><td>12</td><td>13</td><td>14</td><td>15</td><td>16</td><td>17</td><td>18</td><td>19</td><td>20</td><td>21</td><td>22</td><td>23</td><td>24</td><td></td> </tr> </table>			minuit	1	2	3	4	5	6	7	8	9	10	11	12	13	14	15	16	17	18	19	20	21	22	23	24	total des heures	repos	[Barres de repos]																							_____	couchette	[Barres de couchette]																							_____	conduite	[Barres de conduite]																							_____	service	[Barres de service]																							_____	minuit	1	2	3	4	5	6	7	8	9	10	11	12	13	14	15	16	17	18	19	20	21	22	23	24	
minuit	1	2	3	4	5	6	7	8	9	10	11	12	13	14	15	16	17	18	19	20	21	22	23	24	total des heures																																																																																																																																	
repos	[Barres de repos]																							_____																																																																																																																																		
couchette	[Barres de couchette]																							_____																																																																																																																																		
conduite	[Barres de conduite]																							_____																																																																																																																																		
service	[Barres de service]																							_____																																																																																																																																		
minuit	1	2	3	4	5	6	7	8	9	10	11	12	13	14	15	16	17	18	19	20	21	22	23	24																																																																																																																																		
Remarques																																																																																																																																																										
Trois-Rivières QC / Trenton ON / Sudbury ON / Barrie ON																																																																																																																																																										
Utilisation fins Od Début: _____	Temps de repos différé: Jour 1 <input type="checkbox"/> Jour 2 <input type="checkbox"/>																																																																																																																																																									
Nom du conducteur: M. Conducteur	14 jours précédents: 14 13 12 11 10 9 8 7 6 5 4 3 2 1																																																																																																																																																									
Signature du conducteur: _____	Heures de repos: _____																																																																																																																																																									
	Heures de service: _____																																																																																																																																																									
	Nom du coconducteur: _____																																																																																																																																																									

CHOIX DE RÉPONSE: Une seule réponse possible  
Plusieurs réponses possibles X

A) L'amplitude est dépassée	Bonne réponse ( ) cocher
B) Repos journalier non conforme	Bonne réponse ( ) cocher
C) Les heures de conduite sont dépassées	Bonne réponse ( ) cocher
D) Les heures de travail sont dépassées	Bonne réponse ( ) cocher

Référence :

# Question à choix multiples.

Fiche à compléter - 6

Leçon: 3.8

QUESTION:

**Cette fiche journalière n'est pas conforme.**

Date: 20 /11/ 25	# immatriculation: L751712	# unité: 3055																																																																																																																																																						
<input checked="" type="checkbox"/> Cycle 1 (70 h / 7 J) <input type="checkbox"/> Cycle 2 (120 h / 14 J)	# immatriculation: RQ 3764	# unité: 5335																																																																																																																																																						
Heure de début de la journée (grille de 24 heures) si différente de minuit: _____	Odomètre début: 262457	Odomètre fin: _____																																																																																																																																																						
Établissement principal: Transport ABC, 24 du cerf, Grand-Mère, QC		Terminus d'attache: Transport ABC, 1140 Capri, Trois-Rivières, QC																																																																																																																																																						
<table border="1"> <tr> <td>minuit</td> <td>1</td><td>2</td><td>3</td><td>4</td><td>5</td><td>6</td><td>7</td><td>8</td><td>9</td><td>10</td><td>11</td><td>12</td><td>13</td><td>14</td><td>15</td><td>16</td><td>17</td><td>18</td><td>19</td><td>20</td><td>21</td><td>22</td><td>23</td><td>24</td> </tr> <tr> <td>repos</td> <td colspan="24">[Bar chart showing 1h of rest at 12:00 and 1h at 20:00]</td> </tr> <tr> <td>couchette</td> <td colspan="24">[Bar chart showing 1h of rest at 12:00 and 1h at 20:00]</td> </tr> <tr> <td>conduite</td> <td colspan="24">[Bar chart showing 6h of driving from 7:00 to 13:00]</td> </tr> <tr> <td>service</td> <td colspan="24">[Bar chart showing 7.5h of service from 7:00 to 14:30]</td> </tr> <tr> <td>total des heures</td> <td colspan="24">[Total hours bar chart]</td> </tr> </table>			minuit	1	2	3	4	5	6	7	8	9	10	11	12	13	14	15	16	17	18	19	20	21	22	23	24	repos	[Bar chart showing 1h of rest at 12:00 and 1h at 20:00]																								couchette	[Bar chart showing 1h of rest at 12:00 and 1h at 20:00]																								conduite	[Bar chart showing 6h of driving from 7:00 to 13:00]																								service	[Bar chart showing 7.5h of service from 7:00 to 14:30]																								total des heures	[Total hours bar chart]																							
minuit	1	2	3	4	5	6	7	8	9	10	11	12	13	14	15	16	17	18	19	20	21	22	23	24																																																																																																																																
repos	[Bar chart showing 1h of rest at 12:00 and 1h at 20:00]																																																																																																																																																							
couchette	[Bar chart showing 1h of rest at 12:00 and 1h at 20:00]																																																																																																																																																							
conduite	[Bar chart showing 6h of driving from 7:00 to 13:00]																																																																																																																																																							
service	[Bar chart showing 7.5h of service from 7:00 to 14:30]																																																																																																																																																							
total des heures	[Total hours bar chart]																																																																																																																																																							
Remarques: Trois-Rivières QC / Trenton ON / Sudbury ON / Barrie ON																																																																																																																																																								
Utilisation fins personnelles: _____	Od. Début: _____	Od. fin: _____																																																																																																																																																						
Nom du conducteur: M. Conducteur		Temps de repos différé: Jour 1 <input type="checkbox"/> Jour 2 <input type="checkbox"/>																																																																																																																																																						
Signature du conducteur: _____		14 jours précédents: 14 13 12 11 10 9 8 7 6 5 4 3 2 1																																																																																																																																																						
		Heures de repos: [Table]																																																																																																																																																						
		Heures de service: [Table]																																																																																																																																																						
Nom du coconducteur: _____																																																																																																																																																								

CHOIX DE RÉPONSE:

VRAI

Bonne réponse  
( ) cocher

FAUX

Bonne réponse  
( ) cocher

Référence :

## Question - Vrai ou Faux

---

Fiche à compléter -7

Leçon: 3.8

QUESTION:

**Mise en situation:**

Vous arrivez de Moncton, NB

- Durée du travail: 12 heures
- Durée de la conduite: 11 heures
- Durée du dîner: 1 heure

**Vous pouvez conduire encore 3 heures, pour atteindre l'amplitude qui est de 16 heures.**

CHOIX DE RÉPONSE:

VRAI

Bonne réponse  
( ) cocher

FAUX

Bonne réponse  
( ) cocher

Référence :

## Question - Vrai ou Faux

---

Fiche à compléter - 8

Leçon: 3.8

QUESTION:

**Mise en situation:**

Vous partez pour effectuer des livraisons régionales. En cours de route, votre planification change et vous devez sortir du rayon de 160 km de votre port d'attache.

Vous n'avez pas de fiche journalière donc, vous ne pouvez pas dépasser le rayon de 160 km de votre port d'attache.

CHOIX DE RÉPONSE:

VRAI

Bonne réponse  
(    ) cocher

FAUX

Bonne réponse  
(    ) cocher

Référence :

## Question - Vrai ou Faux

---

Fiche à compléter -9

Leçon: 3.8

QUESTION:

**Mise en situation:**

Vous n'êtes pas en repos, lorsque vous êtes sur un traversier.

CHOIX DE RÉPONSE:

VRAI

Bonne réponse  
( ) cocher

FAUX

Bonne réponse  
( ) cocher

Référence :

# Question - Vrai ou Faux

Fiche à compléter -10

Leçon: 3.8

QUESTION:

Mise en situation:

Vous remettez cette  
fiche journalière à  
l'employeur.

La fiche est  
complète et  
respecte les  
exigences.

Date: 20 /11/ 25	# immatriculation: L751712	# unité: 3055
<input checked="" type="checkbox"/> Cycle 1 (70 h / 7 J) <input type="checkbox"/> Cycle 2 (120 h / 14 J)	# immatriculation: RQ 3764	# unité: 5335
Heure de début de la journée (grille de 24 heures) si différente de minuit: _____	Odomètre début: 262457	Odomètre fin: 263566
Établissement principal: Transport ABC, 24 du cerf, Grand-Mère, QC		Terminus d'attache: Transport ABC, 1140 Capri, Trois-Rivières, QC
Distance totale parcourue: 1109		

minuit	1	2	3	4	5	6	7	8	9	10	11	12	13	14	15	16	17	18	19	20	21	22	23	24	total des heures
repos	[Bar chart showing 1h rest at 12h, 1h at 18h, 1.5h at 23h]																							8,5	
couchette	[Bar chart showing 1.5h at 12h, 1h at 18h, 1h at 23h]																							1,5	
conduite	[Bar chart showing 6.5h at 1h, 7.5h at 6h, 4.75h at 9h, 2.5h at 14h, 2.5h at 17h, .5h at 19h, 1h at 20h, 1.5h at 21h]																							11,75	
service	[Bar chart showing 6.5h at 1h, 7.5h at 6h, 4.75h at 9h, 2.5h at 14h, 2.5h at 17h, .5h at 19h, 1h at 20h, 1.5h at 21h]																							2,25	

Remarques: Trois-Rivières QC / Trenton ON / Innisfil ON / Sudbury ON / Parry Sound ON

Utilisation fins personnelles: _____	Od Début: _____	Od fin: _____	Temps de repos différé: Jour 1 <input type="checkbox"/> Jour 2 <input type="checkbox"/>
Nom du conducteur: M. Conducteur	[Signature]		
Signature du conducteur: _____	Nom du coconducteur: _____		

14 jours précédents	14	13	12	11	10	9	8	7	6	5	4	3	2	1
Heures de repos														
Heures de service														

CHOIX DE RÉPONSE:

VRAI

Bonne réponse  
( ) cocher

FAUX

Bonne réponse  
( ) cocher

Référence :